

Nome: _____

ATENÇÃO: Soluções sem os respectivos desenvolvimentos, claramente explicitados, NÃO SERÃO CONSIDERADAS.

01. (2,5 pontos) Considere os vetores $\vec{v} = (1, -1, 2)$, $\vec{u} = (3, 4, -2)$ e $\vec{w} = (-5, 1, -4)$ e os pontos $P(1, 3, 2)$ e $Q(2, -1, 4)$.

- (0,5) Determine o valor do produto misto $\vec{v} \cdot (\vec{u} \times \vec{w})$.
- (1,0) Calcule o vetor $\vec{\lambda}$ sabendo que $(\vec{v} \cdot \vec{u})\vec{\lambda} = 2\vec{v} - \vec{w} + \overrightarrow{QP}$.
- (1,0) Obtenha o vetor $\vec{\sigma} = [\vec{v} \cdot (\vec{u} \times \vec{w})]\vec{\lambda}$.

02. (3,0) Considere a reta r que passa pelos pontos $A(1, -1, 0)$ e $B(1, 0, 1)$ e a reta $s: X = (-8, 0, 6) + t(2, 2, -1)$.

- (1,0) Determine as equações paramétricas da reta r .
- (1,0) Determine a posição relativa entre as retas r e s .
- (1,0) Calcule a distância entre as retas r e s .

03. (2,5 pontos) Considere a cônica de equação

$$4x^2 + 9y^2 - 8x - 36y + 4 = 0.$$

- (0,5) Identifique a cônica.
- (1,0) Determine todos os elementos desta cônica.
- (1,0) Faça um esboço identificando os elementos encontrados.

04. (2,0 pontos) Considere a superfície cilíndrica cuja interseção com o plano $z = 0$ é uma parábola de vértice $V(1, 4, 0)$ e foco $F(-2, 4, 0)$.

- (1,0) Obtenha a equação da superfície cilíndrica.
- (1,0) Faça um esboço da superfície.

GEOMETRIA ANALITICA2ª CHAMADA 2013.1GABARITO

#01. 1).

$$\vec{v} \cdot (\vec{u} \times \vec{w}) = \begin{vmatrix} 1 & -1 & 2 \\ 3 & 4 & -2 \\ -5 & 1 & -4 \end{vmatrix}$$

$$= 1(-16 + 2) - 1(12 + 12) + 2(3 + 20)$$

$$= -14 - 22 + 46 = -36 + 46 = 10.$$

$$\boxed{\vec{v} \cdot (\vec{u} \times \vec{w}) = 10}$$

$$b) \vec{v} \cdot \vec{u} = (1, -1, 2) \cdot (3, 4, -2)$$

$$= 3 - 4 - 4 = -5$$

$$2\vec{v} = (2, -2, 4)$$

$$\vec{QP} = P - Q = (1, 4, -2)$$

$$2\vec{v} - \vec{w} + \vec{QP} = (2, -2, 4) - (-5, 1, -4) + (1, 4, -2)$$

$$= (2 + 5 + 1, -2 - 1 + 4, 4 + 4 - 2)$$

$$2\vec{v} - \vec{w} + 4\vec{p} = (8, 1, 6)$$

$$(\vec{v} \cdot \vec{u}) \vec{\lambda} = 2\vec{v} - \vec{w} + 4\vec{p}$$

$$-5\vec{\lambda} = (8, 1, 6) \Rightarrow \boxed{\vec{\lambda} = -\frac{1}{5}(8, 1, 6)}$$

$$c) \vec{\sigma} = [\vec{v} \cdot (\vec{u} \times \vec{w})] \hat{\lambda}$$

$$\hat{\lambda} = \frac{\vec{\lambda}}{|\vec{\lambda}|}, \quad |\vec{\lambda}| = \sqrt{\frac{8^2}{5^2} + \frac{1^2}{5^2} + \frac{6^2}{5^2}}$$

$$= \frac{1}{5} \sqrt{64 + 1 + 36} = \frac{\sqrt{101}}{5}$$

$$\hat{\lambda} = -\frac{1}{5}(8, 1, 6) \cdot \frac{5}{\sqrt{101}} \Rightarrow \hat{\lambda} = -\frac{1}{\sqrt{101}}(8, 1, 6)$$

$$\vec{\sigma} = 10 \cdot \left[-\frac{1}{\sqrt{101}}(8, 1, 6) \right]$$

$$\boxed{\vec{\sigma} = -\frac{10}{\sqrt{101}}(8, 1, 6)}$$

04

$$\vec{v} \cdot (\vec{w} \times \vec{PA}) = \begin{vmatrix} 0 & 1 & 1 \\ 2 & 2 & -1 \\ 9 & -1 & -6 \end{vmatrix}$$

$$= 1(-9 + 12) + 1(-2 - 18)$$

$$= 3 + (-20) = -13 \neq 0, \text{ r e s s\~{a}o reversas!}$$

$$c) d(r, s) = \frac{|\vec{v} \cdot (\vec{w} \times \vec{PA})|}{|\vec{v} \times \vec{w}|}$$

$$\vec{v} \times \vec{w} = \begin{vmatrix} \hat{x} & \hat{y} & \hat{z} \\ 0 & 1 & 1 \\ 2 & 2 & -1 \end{vmatrix}$$

$$= \hat{x}(-1 - 2) + \hat{y}(2 - 0) + \hat{z}(0 - 2)$$

$$= (-3, 2, -2)$$

$$|\vec{v} \times \vec{w}| = \sqrt{(-3)^2 + (2)^2 + (-2)^2}$$

$$= \sqrt{9 + 4 + 4} = \sqrt{17}$$

$$d(r, s) = \frac{13}{\sqrt{17}}$$

$$\# 03. \quad 4x^2 + 9y^2 - 8x - 36y + 4 = 0$$

$$a) \quad 4x^2 - 8x + 9y^2 - 36y + 4 = 0$$

$$4(x^2 - 2x) + 9(y^2 - 4y) + 4 = 0$$

$$4(x^2 - 2x + 1 - 1) + 9(y^2 - 4y + 4 - 4) + 4 = 0$$

$$4(x-1)^2 - 4 + 9(y-2)^2 - 36 + 4 = 0$$

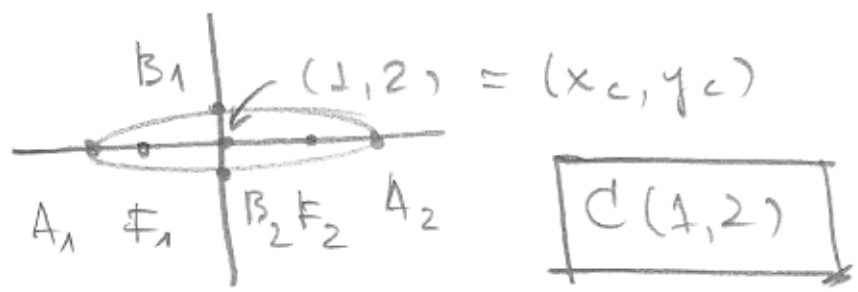
$$4(x-1)^2 + 9(y-2)^2 = 36 \quad \div 36$$

$$\boxed{\frac{(x-1)^2}{9} + \frac{(y-2)^2}{4} = 1} \quad \text{Elipse!}$$

$$b) \quad a = 3, \quad b = 2$$

$$a^2 = b^2 + c^2 \Rightarrow c^2 = a^2 - b^2 = 9 - 4 = 5$$

$$c = \sqrt{5} \Rightarrow \boxed{e = \frac{c}{a} = \frac{\sqrt{5}}{3}} \quad \text{Excentricidade}$$



$A_1(x_c - a, y_c) \Rightarrow A_1(-2, 2)$

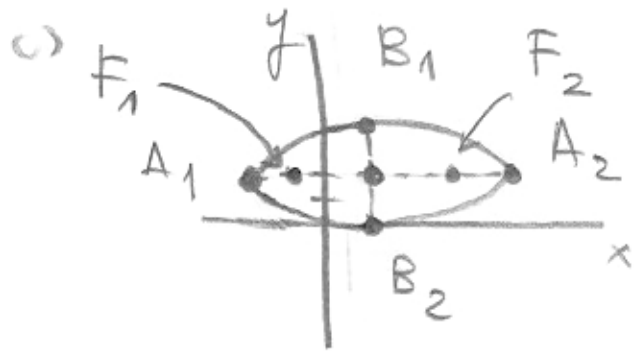
$A_2(x_c + a, y_c) \Rightarrow A_2(4, 2)$

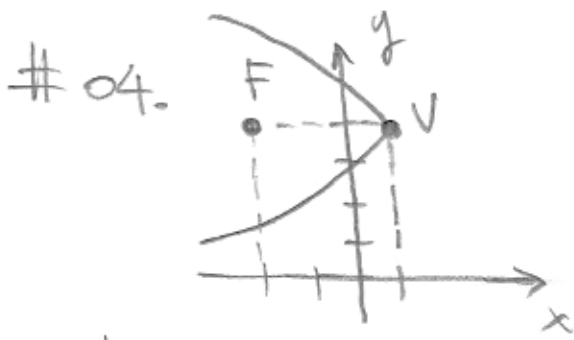
$B_1(x_c, y_c + b) \Rightarrow B_1(1, 4)$

$B_2(x_c, y_c - b) \Rightarrow B_2(1, 0)$

$F_1(x_c - c, y_c) \Rightarrow F_1(1 - \sqrt{5}, 2)$

$F_2(x_c + c, y_c) \Rightarrow F_2(1 + \sqrt{5}, 2)$





$$F(-2, 4, 0)$$

$$V(1, 4, 0)$$

$$d(F, V) = \sqrt{3^2} = 3$$

$$d(F, V) = |p|/2$$

$$|p| = 6$$

Como a concavidade está para $x < 0 \Rightarrow p < 0$

$$p = -6$$

$(y - y_v)^2 = 2p(x - x_v)$, equação de parábola

$$\left. \begin{array}{l} (y - 4)^2 = -12(x - 1) \\ z \text{ livre} \end{array} \right\}$$

Equação da superfície.

b)

